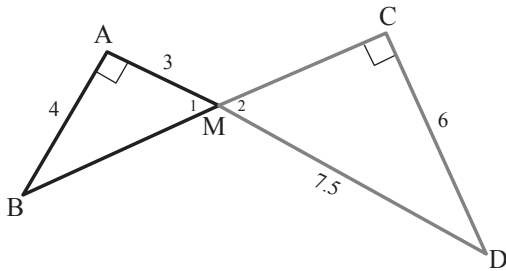


אשכול התמצאות במישור ובמרחב - יחידה שנייה

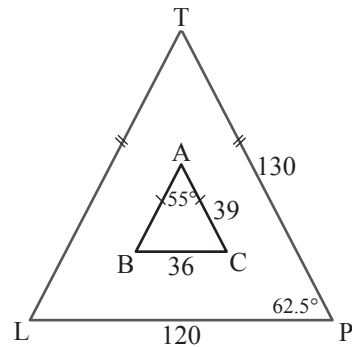
שאלה 9 בעמוד 57

א. $\triangle ABC \sim \triangle DEG$ ב. $\triangle ABK \sim \triangle C$ ג. $\triangle AET \sim \triangle$ ד. $\triangle \sim \triangle$
 $\frac{AB}{BC} = \frac{AC}{AK}$ $\frac{AB}{BC} = \frac{AC}{AC}$ $\frac{AE}{ET} =$ $==$

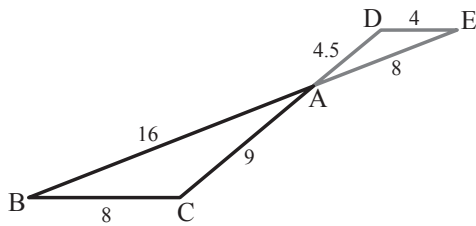
שאלה 18 בעמוד 61



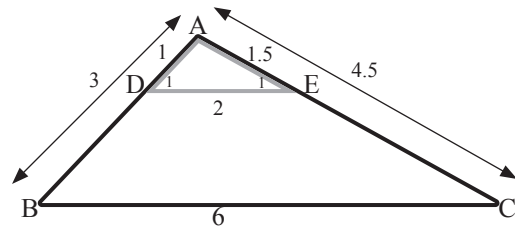
שאלה 15 בעמוד 59



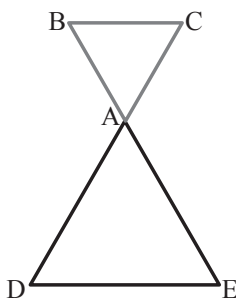
שאלה 20 בעמוד 61



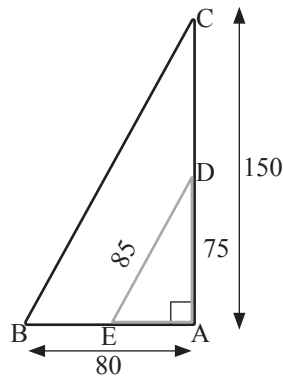
שאלה 19 בעמוד 61



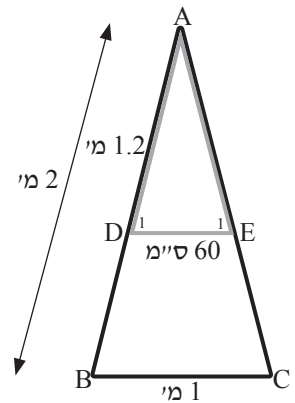
שאלה 23 בעמוד 63



שאלה 22 בעמוד 63

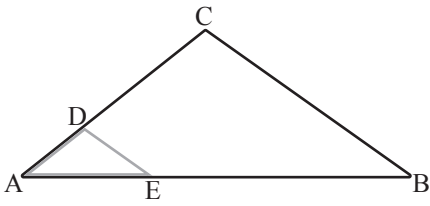


שאלה 21 בעמוד 62

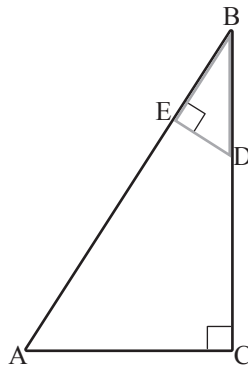


אשכול התמצאות במישור ובמרחב - יחידה שנייה

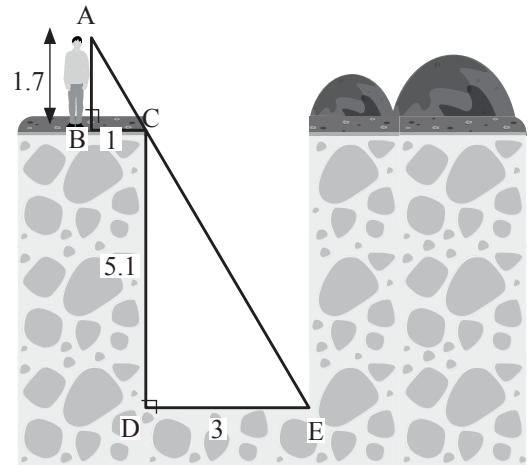
שאלה 29 בעמוד 67



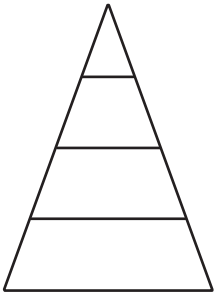
שאלה 28 בעמוד 67



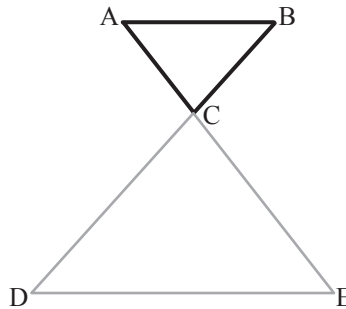
שאלה 25 בעמוד 64



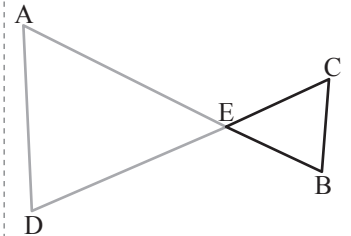
שאלה 35 בעמוד 68



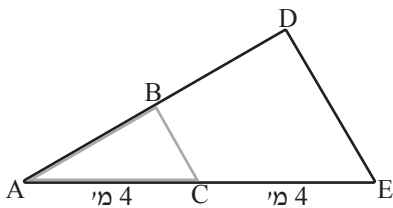
שאלה 31 בעמוד 67



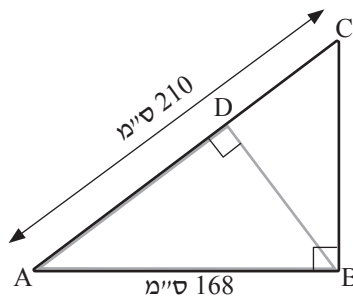
שאלה 30 בעמוד 67



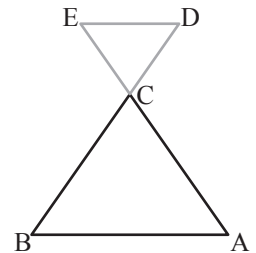
שאלה 36 בעמוד 69



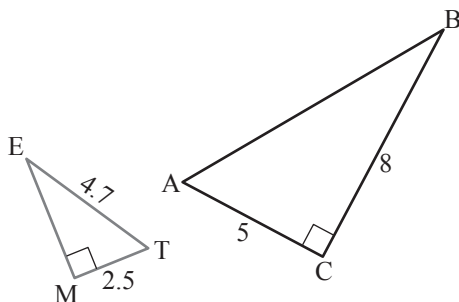
שאלה 37 בעמוד 69



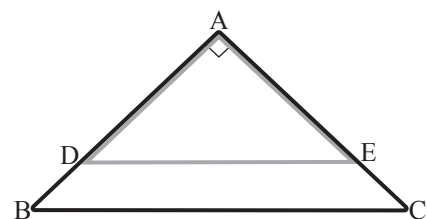
שאלה 36 בעמוד 69



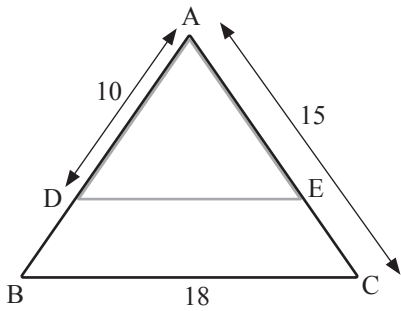
שאלה 41 בעמוד 71



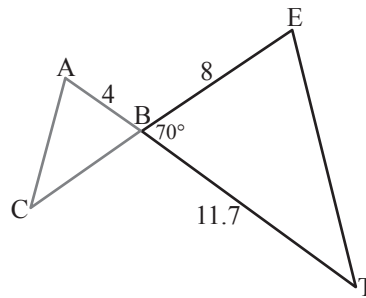
שאלה 39 בעמוד 69



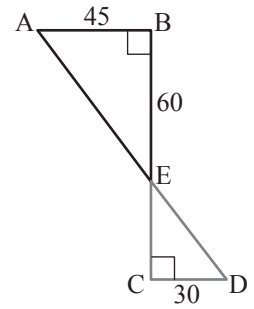
שאלה 44 בעמוד 72



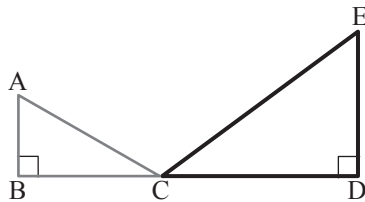
שאלה 43 בעמוד 72



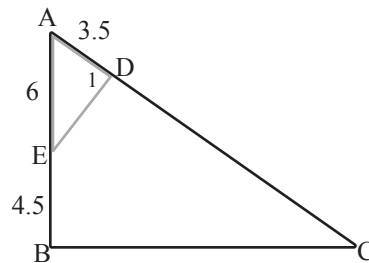
שאלה 42 בעמוד 72



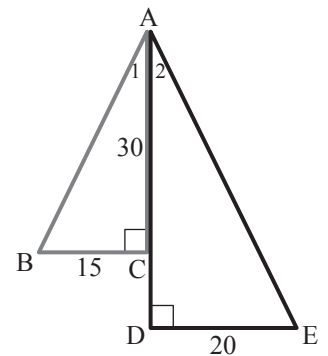
שאלה 47 בעמוד 74



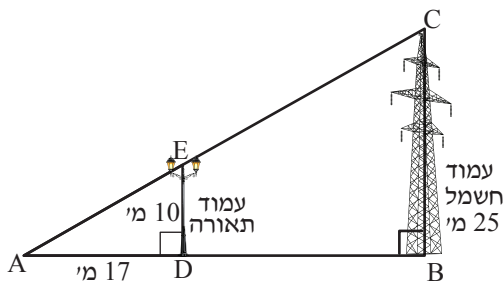
שאלה 46 בעמוד 73



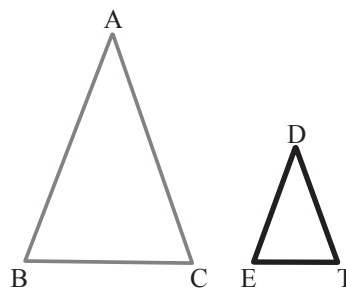
שאלה 45 בעמוד 73



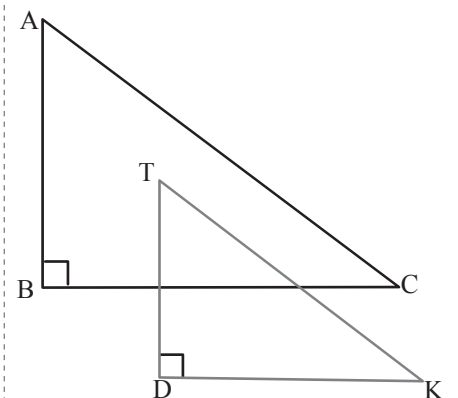
שאלה 50 בעמוד 75



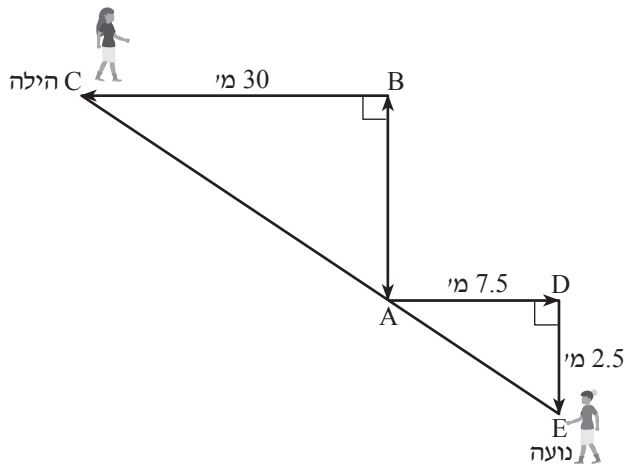
שאלה 49 בעמוד 75



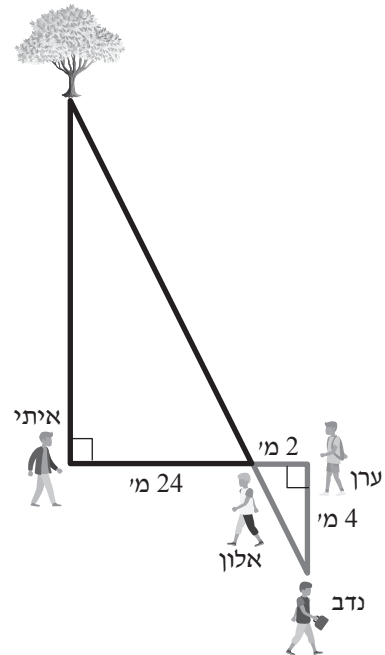
שאלה 48 בעמוד 74



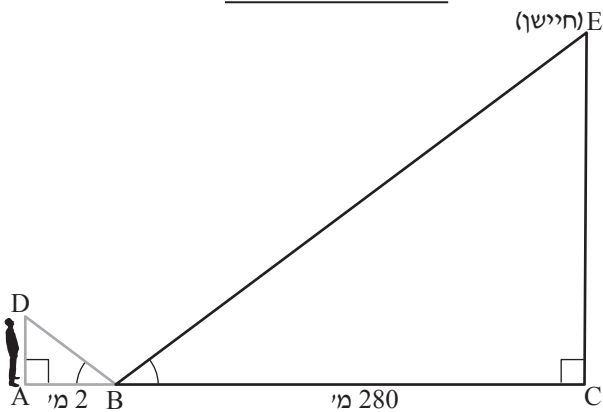
שאלה 52 בעמוד 76



שאלה 51 בעמוד 75



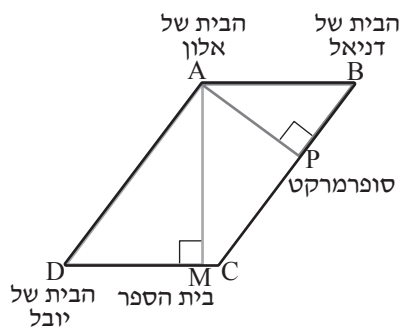
שאלה 54 בעמוד 78



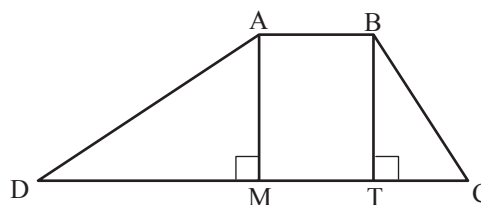
שאלה 53 בעמוד 77



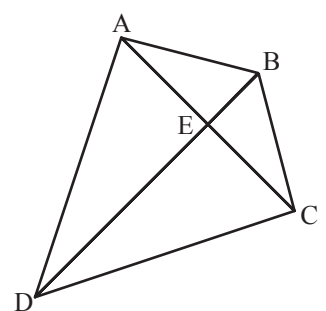
שאלה 57 בעמוד 80



שאלה 56 בעמוד 79

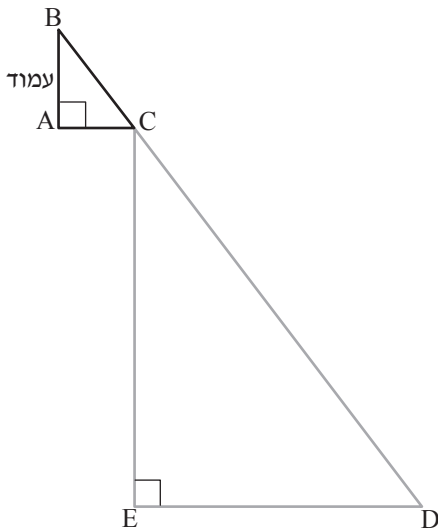


שאלה 55 בעמוד 79

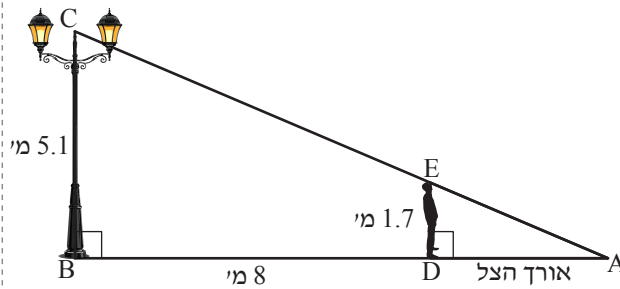


אשכול התמצאות במישור ובמרחב - יחידה שנייה

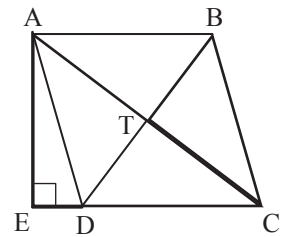
שאלה 60 בעמוד 83



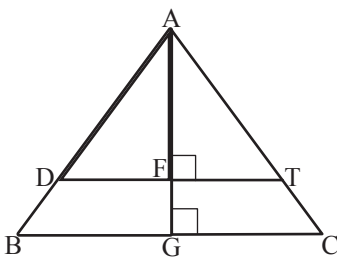
שאלה 59 בעמוד 82



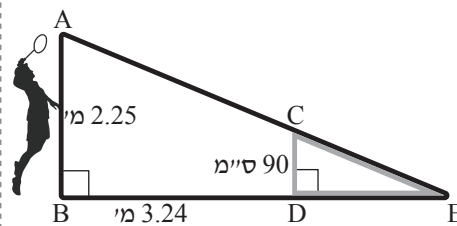
שאלה 58 בעמוד 80



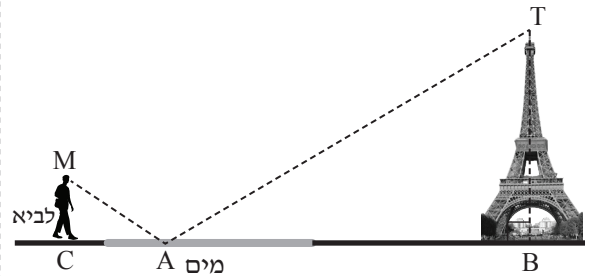
שאלה 63 בעמוד 84



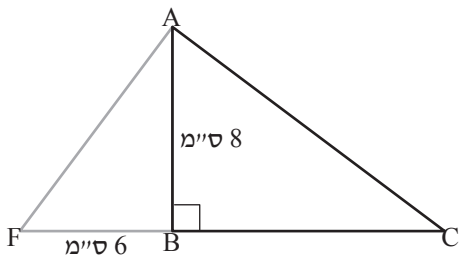
שאלה 62 בעמוד 84



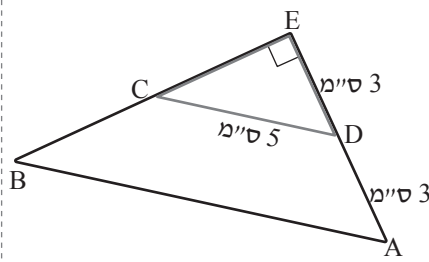
שאלה 61 בעמוד 83



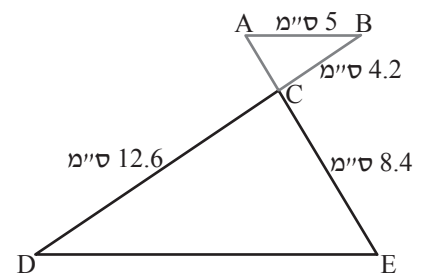
שאלה 66 בעמוד 87



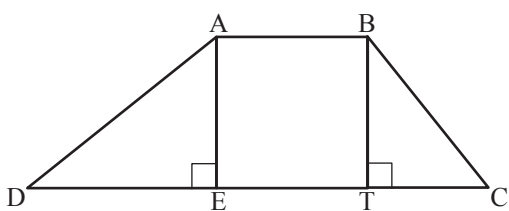
שאלה 65 בעמוד 86



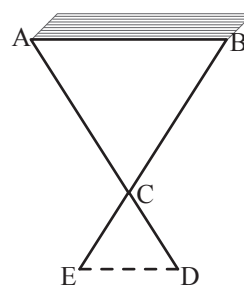
שאלה 64 בעמוד 86



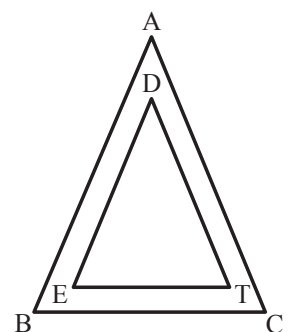
שאלה 69 בעמוד 88



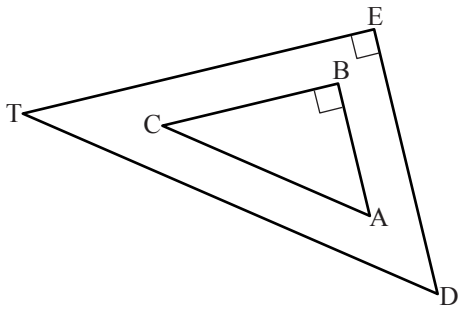
שאלה 68 בעמוד 87



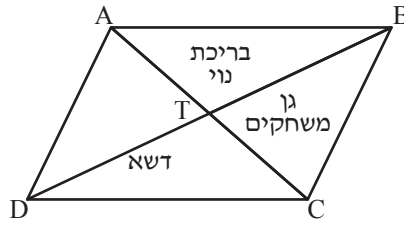
שאלה 67 בעמוד 87



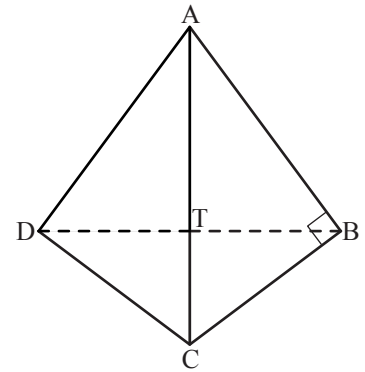
שאלה 72 בעמוד 89



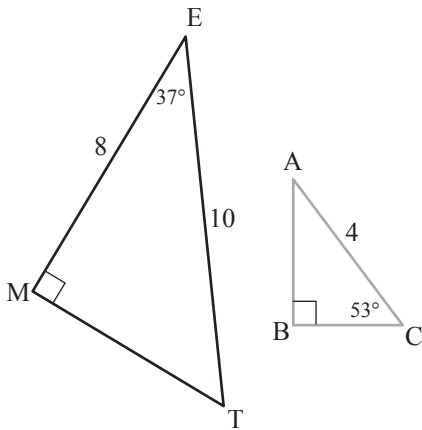
שאלה 71 בעמוד 88



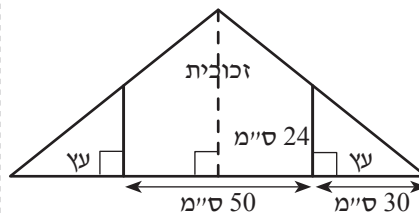
שאלה 70 בעמוד 88



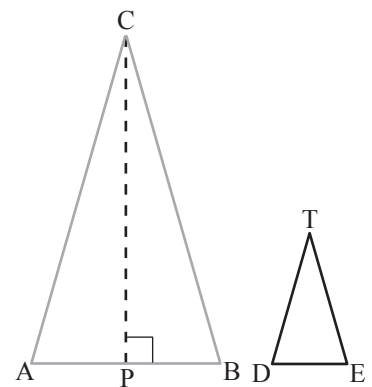
שאלה 75 בעמוד 91



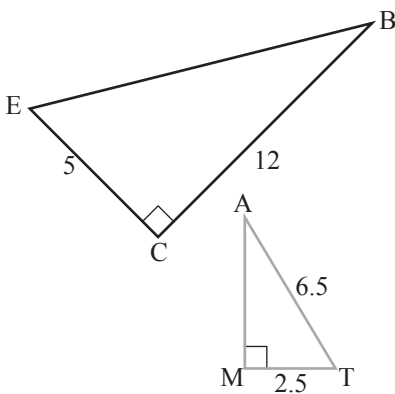
שאלה 74 בעמוד 90



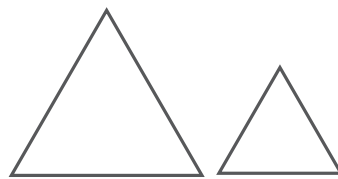
שאלה 73 בעמוד 90



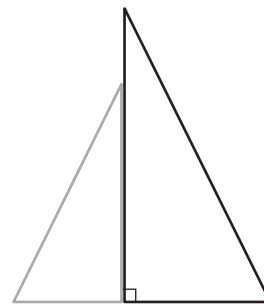
שאלה 79 בעמוד 94



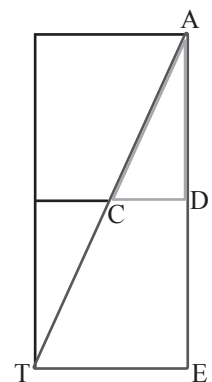
שאלה 78 בעמוד 92



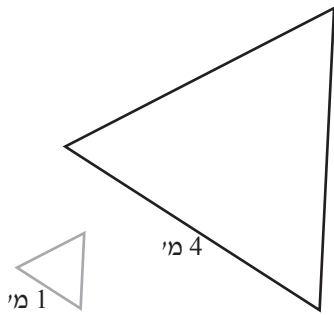
שאלה 77 בעמוד 92



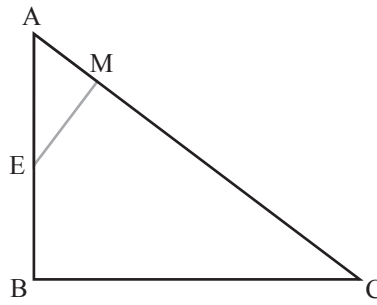
שאלה 76 בעמוד 91



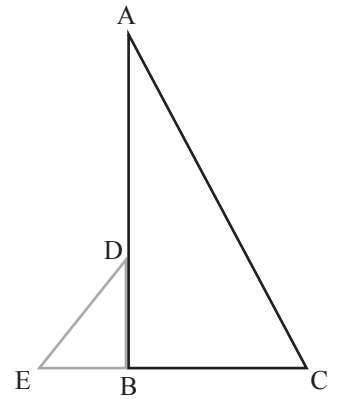
שאלה 82 בעמוד 95



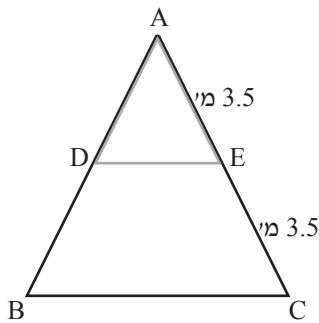
שאלה 81 בעמוד 94



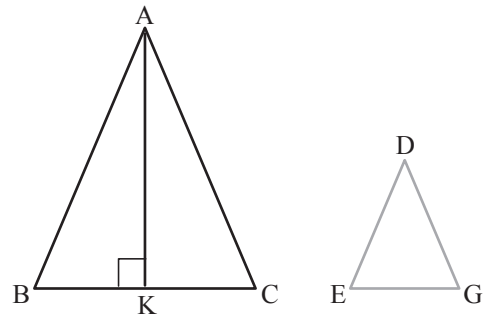
שאלה 80 בעמוד 94



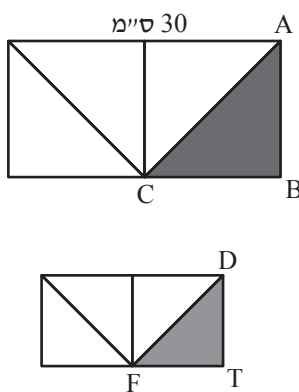
שאלה 84 בעמוד 96



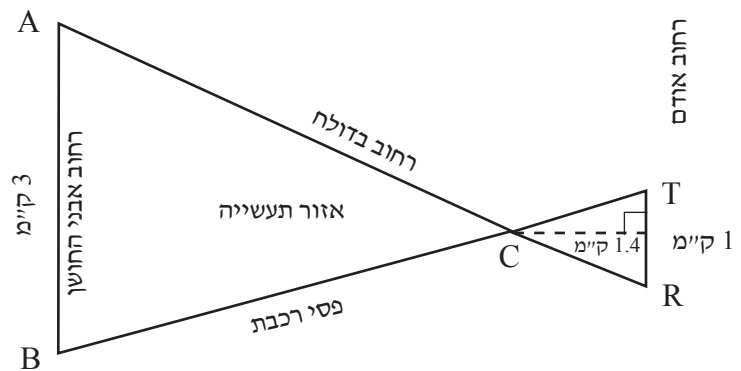
שאלה 83 בעמוד 95



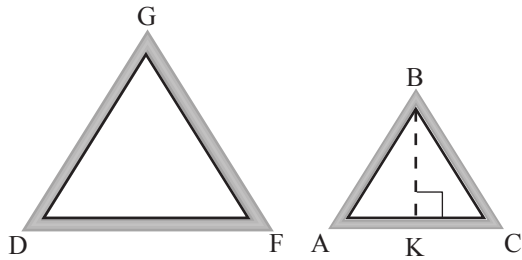
שאלה 87 בעמוד 97



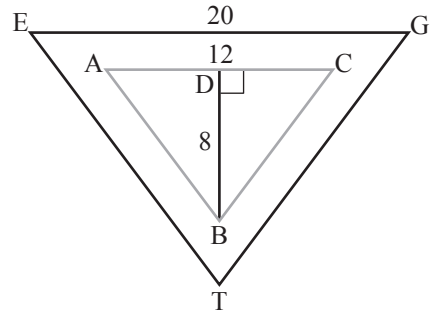
שאלה 85 בעמוד 96



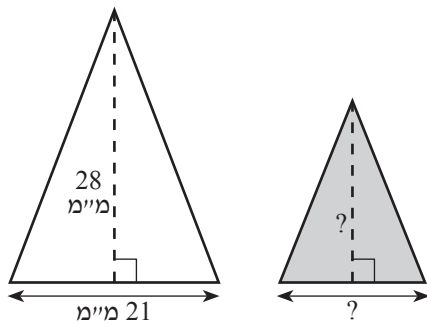
שאלה 89 בעמוד 98



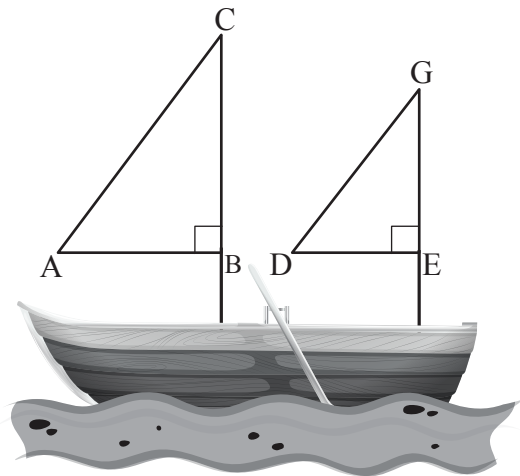
שאלה 88 בעמוד 98



שאלה 91 בעמוד 100



שאלה 90 בעמוד 99



שאלה 92 בעמוד 100

